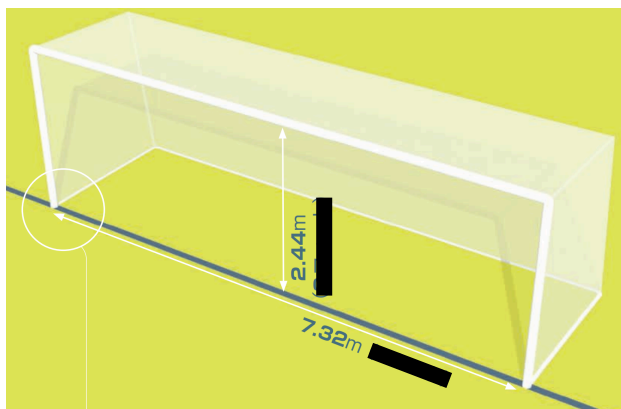



シーガルの宿題（その6）

名前 _____



11 人制のゴール

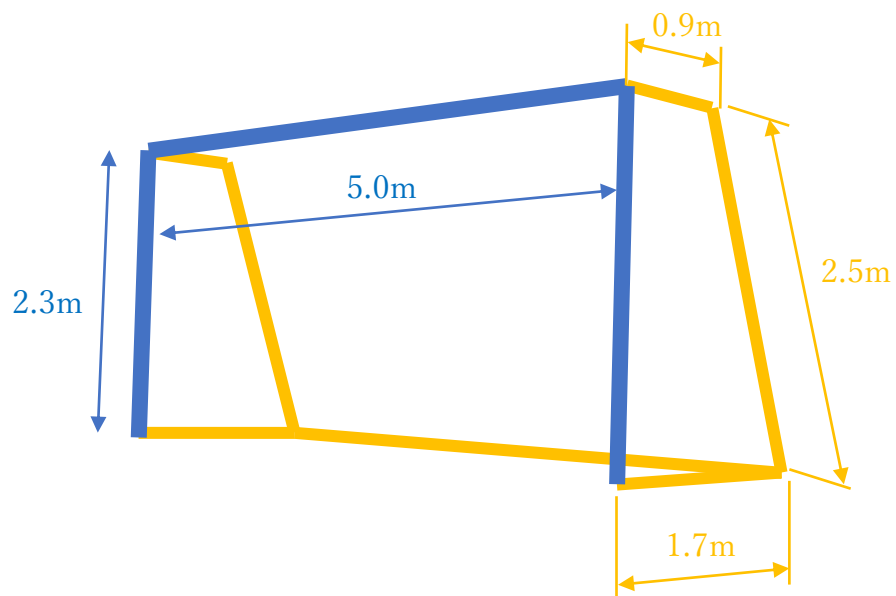


8 人制のゴール

【問題 1】

11 人制のゴールの面積は、8 人制ゴールの面積の何倍ですか？（小数第 2 位を四捨五入して求めましょう）

【問題 2】



青い線の部分の重さは1 m あたり 5 kg です。
黄色い線の部分の重さは1 m あたり 1 kg です。
ゴールネットの重さは6 kg です。

ゴールの重さは何 kg ですか？